

国語

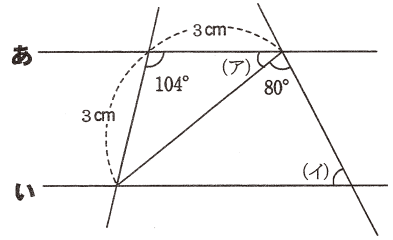
||| どの言葉にかかっていますか。記号で答えなさい。

- ① 赤い ||| 大きな りんごが たくさん 取れた。
- ② いっしょうけん命 走って やつと 駅の ホームに 着いた。
- ③ 苦労の 末に とうとう 彼は 一キロメートル 泳ぐ ことが できた。
- ④ 弟は ||| 友だちと 出かけ、 ぼくは 部屋で 友だちと 遊んだ。
- ⑤ そんな ことは 難しく、 とうてい できません、 ぼくには |||

入試問題に チャレンジ

算数

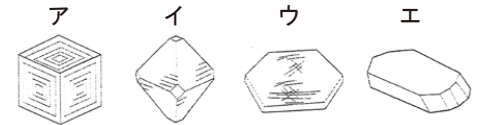
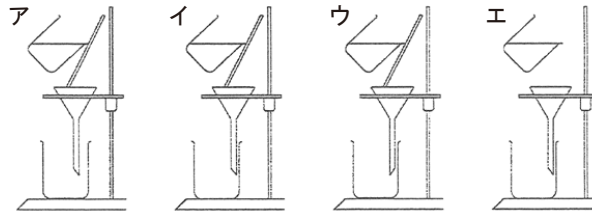
下の図で、直線あ
と直線い
は平行です。
このときに(ア)、
(イ)
の角度の大きさを求
めなさい。



理科

60℃の水100mlに、物質をとけるだけとこしてから40℃まで冷やすと、液の中にとけていたつぶがあらわれたので、このつぶを液体から取り出して調べました。

- (1) 60℃から40℃まで液体を冷やしたとき、つぶが多く出てくるのは食塩、ミョウバンのうちどちらの物質ですか。
- (2) (1)で液の中に出てきたつぶと液体とを分けるには下図のような操作を行います。この操作を何といいますか。また、正しく操作しているものを次から1つ選び、記号で答えなさい。
- (3) (1)で多く取り出せなかった物質は、どのようにすれば取り出すことができますか。
- (4) (3)の方法で出てきたつぶをけんび鏡で観察してスケッチをしました。それはどれですか。次から1つ選び、記号で答えなさい。



社会



岐阜県は7つの県に囲まれています。次のA～Cは、その7つの県のいずれかについて説明したものです。それぞれの説明にあてはまる県を、右の地図中ア～キの中から1つ選び、またその県名と県庁所在地名をそれぞれ答えなさい。

- A 夏は登山、冬はスキー等の観光客が多く訪れる。りんごの生産が全国第2位である。
- B 能登半島の輪島では伝統工芸品の輪島塗りが有名。日本海に面しており、冬は雪が多く降る。
- C 中京工業地帯が広がり、自動車工業がさかん。2005年に中部国際空港が開港した。